



Boshlang'ich ta'lim (O'zbek)



- 1 2 3 4 5 6 7 8 9 10 11 12 13 14 15 16 17 18 19 20 21 22 23
24 25 26 27 28 29 30 31 32 33 34 35 36 37 38 39 40

1. Qaysi gapda vergulning qo'yilishi undalmaning qo'llanishi bilan bog'liq?

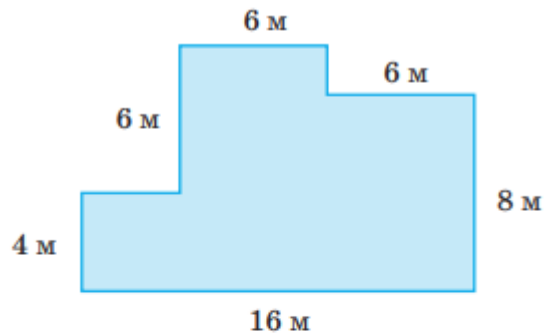
- O'g'lim, senga ajoyib ovqatlar tayyorladim.
- Kitob, daftarlarimni yig'ishtira boshladim.
- Mazali, shirin quymoqlar pishirib qo'ydim.
- Xullas, kechagi qilmishlaring uchun javob ber.

www.ilmlar.uz

Oldingi savol

Keyingi savol

2. Berilgan shakl yuzi necha kv metrga teng?



- 128
- 122
- 124
- 120

www.ilmlar.uz

3. Ushbu gapda necha o'rinda imloviy xatolik uchraydi?

Internetda malumot nusxasini ko'chirib olish, muzokara va muloqat olib borish imkoniyati xam mavjud.

2

1

4

3

4. Quyidagi bo'limlardan qaysilari ona tili metodikasi uchun asos hisoblanadi? **1.Fonetika 2.Fonologiya**

3. Orfoepiya 4. Grafika

5. Orfografiya. 6.Leksikolo-giya

7. Frazologiya 8.So'z yasalishi

9. Etimologiya 10.Grammatika

11.Stilistika

1 2 4 6 7 9 10 11

1 3 4 5 6 7 8 9 10

2 3 5 6 7 8 10 11

1 2 3 4 5 6 7 8 9 10 11



5. " Ziyrak uch yigit" ertagida uch yigit o'zining topqirligi, fahm-farosati bilan kimni lol qoldirishadi.

- Tabibni
- Madrasa domlasini
- Qaroqchilar boshlig'ini
- Hokimni



6. Anora 6 yoshida ukasi Laziz opasidan ikki baravar yosh edi. Anora bugun 40 yoshda bo'lsa, ukasi Laziz necha yoshda?

- 32 yoshda
- 20 yoshda
- 37 yoshda
- 23 yoshda



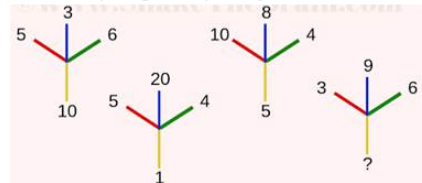
7. Berilgan javoblar qatoridan **ona tili darslariga** qo'yiladigan **umumiy talablarni** aniqlang:

- 1) *Ta'limiy talab*
- 2) *Gigiyenik talablar*
- 3) *Pedagogik talab*
- 4) *Didaktik talablar*
- 5) *Estetik talab*
- 6) *Tarbiyaviy talab*

- 1, 2, 4, 6
- 1, 2, 3, 4, 5, 6
- 1, 6, 3
- 1, 4, 2, 3, 5



8. So'roq belgisini qanday son bilan almashtirishi kerak?



- 4
- 7
- 2
- 8



9. "Ibn Sino bilan tabib" asarida tabib ibn Sinoni qanday qilib tanidi?

- Ibn Sinoning qo'lidagi " Tib qonunlari" kitobiga ko'zi tushgan zahoti .
- Ibn Sinoning qo'llaridagi shifobaxsh giyohlarni ko'rganligi uchun
- Bemor ayolning qo'lining tomirlarini ushlagan zahoti uning kecha kechqurun xo'roz go'shti yeganligini bilganligi uchun.
- Varaqlarining bir chetiga ko'zi tushgan zahoti kitobning "Qonun" ekanligini bilganligi uchun.



10. Tulkinging og'irligi bo'rining og'irligidan ikki baravar yengil. Ayiqning og'irligi tulki og'irligidan 3 baravar og'ir. Ularning umumiy vazni 720 kg bo'lsa, bo'rining og'irligini aniqlang?

- 120 kg
- 360 kg
- 480 kg
- 240 kg



11. STO' darslari o'quvchilarda mustaqil o'qish malakasini shakllantirish qanday bosqichlarga bo'linadi?

- 1) Tayyorlov bosqichi
- 2) Tayyorlovdan keyingi bosqich
- 3) Boshlang'ich bosqich
- 4) Asosiy bosqich
- 5)Avtomatlashgan bosqich

- 1, 3, 4
- 1, 2, 3, 4, 5
- 3, 4, 5
- 1, 4

www.ilmlar.uz

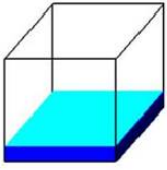


12. Berilgan ketma-ketlikda so'roq belgisi o'rniga qaysi shakl to'g'ri keladi?



-
-
-
-

13. Kub shaklidagi qutining hajmi 2700 l bo'lib, 24% ko'k bo'yoq, 16% havorang bo'yoq, qolgan qismini oq bo'yoq bilan to'ldirildi. Qutining necha litri oq bo'yoq bilan to'ldirilgan?



- 378 litr
- 1620 litr
- 2450 litr
- 1080 litr

14. Qaysi javobdagi nuqtalar o'rniga zarur kelishik qo'shimchasi qo'yilganda tovush tushishi ro'y beradi?

- Sen... mehning bilan yashaymiz, Vatan!
- Biz... qishloq tog' bag'rida joylashgan.
- O'zing... er bilsang, o'zgani sher bil.
- Men u... akam qayerdaligini so'radim.

15.

Agar $0002 = 23$
 $005 = 52$
 $00006 = 64$
bo'lsa, $00012 = ?$

- 120
- 123
- 128
- 125

16. XXXIV bilan XXVII orasidagi farqni toping.

- XXIV
- VI
- XII
- VII

17. *Imloga oid mashqlarga quyidagilardan qaysilari kiradi?*

- 1) *grammatik-orfografik tahlil*
- 2) *ko'chirib yozuv*
- 3) *diktantlar*
- 4) *leksik-grammatik tahlil*
- 5) *bayonlar*

1, 2, 3, 4, 5

1, 2, 3, 4

2, 4

1, 3, 4

18. Boshlang'ich sinf o'quvchilari uchun **otlarda egalik qo'shimchalari** mavzusining murakkab hisoblanishiga sabab nimada?

qo'shimchalar tarkibi o'xshashligi

"shaxs" tushunchasi bilan hali tanishtirilmaganligi

nutq o'stirish mashqlaridan foydalanmaslik

mavzuni yaxshi o'zlashtirmaslik

19. $10 - 8 =$ ko'rinishidagi misollarni yechish uchun o'quvchi qanday ko'nikmaga ega bo'lishi kerak:

- 1) son tarkibini
- 2) o'rin almashtirish xossasini
- 3) yig'indi va qo'shiluvchilarning o'zaro bog'langanligini
- 4) amallar tartibini
- 5) distribyuterlik xossasini

1, 3

1, 2, 3, 4, 5

1, 3, 5

3, 5

20. Qaysi javobdagi so'zlar o'zaro ma'nodosh bo'la olmaydi?

maqsad, niyat

buyruq, amir

darrov, darhol

dushman, yov

21. Rasmda ko'rsatilgan o'simliklar, asosan qanday suv hisobiga o'sadi?



- Tashlama suvlar
- Yerosti suvlari
- Muzlik suvlari
- Daryo suvlari

22. A.S.Pushkinning "Baliqchi va baliq haqida ertak" asari va Samuil Marshakning "Eshikni yop" asaridagi umumiylikni aniqlang.

- Ikkala asarda ham chol va kampir dengiz bo'yida yashardi .
- Ikkala asarda ham kampir qaysar, o'jar, o'zining gapini o'tkazishga urinadigan qiyofada gavdalangan.
- Ikkala asarda ham baliq obrazi mavjud.
- Ikkala asarda ham chol baliqchi obrazida gavdalangan.

23. Quyidagi ifodalarning qaysi biri $\frac{1}{3}$ qiymatiga teng.

- $1 + \frac{4}{6}$
- $\frac{1}{12} \times 4$
- $\frac{2}{6} \div \frac{2}{6}$
- $\frac{2}{3} + 1$

www.ilmlar.uz

24. "Ko'k armug'on" hikoyasida "ko'k armug'on" deb qaysi hayvon ta'riflanadi?

- Eshak
- Mushuk
- Ot
- It

25. *Qurilish hovlisiga chang-to'zon ko'tarib yuk mashinasi kirib keldi.*

Gapda ikki o'rinda imloviy xatolik uchraydi.

Ushbu ma'lumot to'g'ri yoki noto'g'ri ekanligini aniqlang.

- to'g'ri
- noto'g'ri

26. Qanday badiiy asar **turida** inson xarakteriga xos xususiyatlar majoziy obrazlar orqali ifodalanadi?

- Masal
- Ertak
- Hikoya
- She'r

27. U karbonat angidrid yutib, kislorod chiqaradi.



- Ha
- Yo'q

28. 100 ichida raqamlashni o'rgatish qanday bosqichlarda amalga oshiriladi.

- 11-20 sonlarini raqamlash va 21-100 sonlarini raqamlash
- 11-100 sonlarini raqamlash
- 10-20 sonlarini raqamlash va 21-100 sonlarini raqamlash
- 1-10 sonlarini raqamlash va 11-100 sonlarini raqamlash

29. Qaysi javobda sifat turkumiga oid soʻz koʻchma maʼnoda qoʻllangan?

- keng maydon
- nozik qiz
- shirin uyqu
- atlas koʻylak

30. Ikkita tovuq ikki daqiqada ikkita tuxum qoʻyishi mumkin. Agar shunday tezlik bilan tuxum qoʻyilsa, 500 ta tuxumni 500 minutda nechta tovuq qoʻyishi mumkin?

- 4
- 2
- 25
- 18

31. Qaysi soʻzlar juftligida jarangli undoshni jarangsiz jufti bilan almashtirish orqali maʼno farqlanishi kuzatilgan?

- 1) darz – dars;
- 2) tovuq – sovuq;
- 3) bod – bot;
- 4) abzal – afzal;
- 5) boʻl – choʻl.

- 1, 3, 4
- 1, 3
- 1, 2, 3, 4, 5
- 2, 4, 5

32. Matematika oʻqitish metodikasi oʻzining tuzilish xususiyatiga koʻra shartli ravishda qanday boʻlimlardan tashkil topgan?

- 1) Matematika oʻqitishning konkret metodikasi
- 2) Matematika oʻqitishning inklyuziv metodikasi
- 3) Matematika oʻqitishning maxsus metodikasi
- 4) Matematika oʻqitishning umumiy metodikasi
- 5) Matematika oʻqitishning abstrakt metodikasi

- 1, 2, 3, 4, 5
- 1, 4, 5
- 1, 3, 4
- 3, 4

33. Ko'rsatilgan viloyatlarga mos keluvchi ko'mir turini aniqlang.



- Kokslangan ko'mir va toshko'mir
- Briket va kokslangan ko'mir
- Toshko'mir va qo'ng'ir ko'mir
- Qo'ng'ir ko'mir va briket



34. Oq va pushti rangli marmarlar respublikamizning qaysi viloyatlari hududidan qazib olinadi?

- Surxondaryo, Samarqand, Jizzax, Buxoro
- Navoiy, Xorazm, Surxondaryo, Farg'ona
- Samarqand, Buxoro, Namangan, Navoiy
- Toshkent, Samarqand, Navoiy, Jizzax



35. Qaysi gapda yasama ot ishtirok etmagan?

- Stol tortmasida qog'ozlar, hujjatlar tartib bilan taxlangan edi.
- Baland minoralar ularda g'urur va iftixor tuyg'ularini uyg'otdi.
- Qunt, sabr va chidam bilan o'qigan odam maqsadiga erishadi.
- Dunyoning eng so'nggi texnikasi yurtimizga kirib kelmoqda.

www.ilmlar.uz

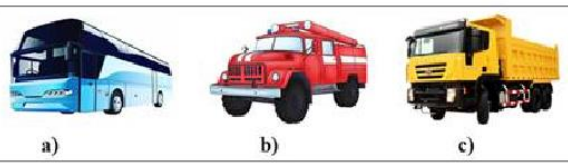
36. Quyida berilgan buyumlarning qaysi usullarga mos yasalganini toping.



- 1-b, 2-c, 3-a.
- 1-a, 2-b, 3-c.
- 1-c, 2-b, 3-a.
- 1-c, 2-a, 3-b.

37. Mashina turlariga mos keluvchi rasm to'g'ri ko'rsatilgan javobni toping.

- 1. Maxsus mashina
- 2. Transport mashinasi
- 3. Yuk mashinasi



- 1-b, 2-a, 3-c.
- 1-c, 2-b, 3-a.
- 1-a, 2-c, 3-b.
- 1-a, 2-b, 3-c.

38. Tushib qolgan sonni toping.



- 3
- 4
- 5
- 6

39. Kelishiklar haqidagi malakani shakllantirish ustida ishlashning samaraliligini ta'minlaydigan shartlarni aniqlang:

- 1) maqsadga muvofiq mashq, tanlash
- 2) o'quvchilarning nutqini o'stirish bilan bog'lab o'rgatish
- 3) mashq materialini asta murakkablashtirib borish
- 4) imloni grammatik bilimni takomillashtirib borish

1, 2, 3, 4

2, 3, 4

1, 2, 4

1, 4

40. Boshlang'ich sinflarda algoritmlashtirish mumkin bo'lgan jarayonlarning eng muhim sinflarini sanang.

- 1) "katta", "kichik", "teng" munosabatlarini o'rgatish
- 2) og'zaki va yozma hisoblashlar
- 3) tenglamalarni yechish
- 4) geometrik shakllarni yasash
- 5) sonning ulushini, sonning kasrini, sonning ulushi bo'yicha o'zini aniqlash
- 6) to'plamlar va ular orasidagi munosabatlar
- 7) fazoviy jismlar

1, 2, 3, 4, 5

1, 2, 3, 4, 5, 6, 7

1, 4, 5, 6

1, 2, 3, 4, 5, 6

www.ilmlar.uz